

## 2.Sınıf Matematik Dersi Yıl Sonu Genel Tekrar Testi

1. 1 yüzlük + 2 birlik şeklinde çözümlenmiş sayı aşağıdakilerden hangisidir?  
A. 12 B. 120 C. 102

2. Aşağıdaki yıldız şeklindeki şekerlerden kaç deste oluşturulabilir?  
A. 2 B. 3 C. 4



3. Aşağıdaki tabloda satılan ürünlerden bir gömlek ve çorap aldım. Kaç lira öderim?

ÜRÜN	FİYAT
Etek	12 TL
Pantolon	15 TL
Gömlek	5 TL
Çorap	50 Kr

- A. 5 TL 5 Kr  
B. 5 TL 50 Kr  
C. 5 TL

4. Ali'nin 3 düzine, Ayşe'nin ise 3 deste masal kitabı vardır. Buna göre aşağıdaki ifadelerden hangisi doğrudur?  
A. Ali'nin daha az kitabı vardır.  
B. Ayşe'nin daha çok kitabı vardır.  
C. Ali'nin daha çok kitabı vardır.

5. 24 ile 29 sayıları arasında kaç tane tek sayı vardır?  
A. 2 B. 3 C. 4

6. Bahçemizde 11 elma ağacı, 8 kiraz ağacı var. Bahçemizde kaç tane meyve ağacı vardır?  
A. 3 B. 15 C. 19

7. Yandaki işlemin sonucu kaçtır?  
A. 85 B. 45 C. 75

$$\begin{array}{r} 61 \\ + 24 \\ \hline \end{array}$$

8.



4 TL

5 TL

- Fiyatları şekildeki gibi olan tişörtten 2 tane pantolondan bir tane alınca satıcıya kaç TL vermek gerekir?  
A. 9 B. 11 C. 13

9.

- Fatih'in 20, Bora'nın 18, Murat'ın 17 misketi var. Üçünün misketlerinin toplamı kaçtır?  
A. 52 B. 57 C. 55

10.

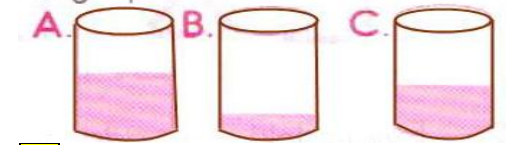
- Dilek 19 yaşındadır. 4 yıl önce kaç yaşındaydı?  
A. 16 B. 12 C. 15

11. Alttaki resim, hangi şekle benzemektedir?  
A. koni B. üçgen C. küre



12.

- Aşağıdaki boyalı bölümlerden hangisi en küçük parçayı ifade eder?



13.

- Annem 10 metre kumaş aldı. 2 metresi ile kendine etek, 3 metresi ile ablama elbise dikti. Geriye kaç metre kumaş kaldı?  
A. 6 metre  
B. 5 metre  
C. 4 metre



## 2.Sınıf Matematik Dersi Yıl Sonu Genel Tekrar Testi

14.



Yolcu otobüsünde aşağıdaki şekillerden hangisi kullanılmamıştır?

A. kare B. üçgen C. daire

15.

▲=3, ■=10, ●=4 ise, 17 sayısını elde edilişi aşağıdakilerden hangisidir?

- A. (▲+■)-●  
B. ▲+■+●  
C. (■+●)-▲

16.

98'den geriye doğru üçer üçer saydığımızda altıncı sırada hangi sayı vardır?

A. 86 B. 83 C. 80



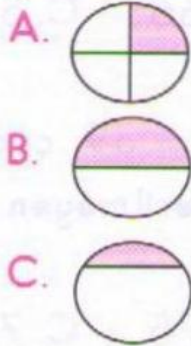
17.

Aşağıdaki yargılardan hangisi yanlıştır?

- A. 2 m=200 cm  
B. 3 saat=180 dakika  
C. 2 cm > 1 m

18.

Aşağıdaki şekillerin hangisinde boyalı bölge çeyreği gösterir?



19.

Yandaki şekilde kaç tane kare vardır?

A. 5 B. 3 C. 4



20.

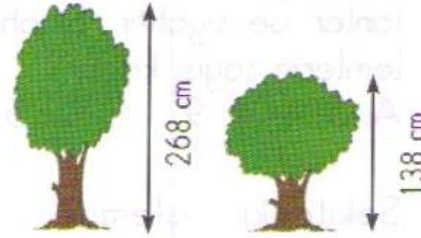
48	2	36	3
	▲		■

Yukarıdaki işlemlerde ▲ ve ■ yerine gelecek sayıların

(▲ | ■) sonucu kaçtır?

A. 1 B. 2 C. 3

21.



Şekildeki 2 ağaç arasındaki fark kaç cm'dir?

A. 100 B. 120 C. 130

22.

İki basamaklı en büyük sayıdan, 2 basamaklı rakamları aynı en küçük sayı çıktığında sonuç kaç bulunur?

A. 87 B. 88 C. 89

23.



1. kasa 2. kasa


Şekildeki 1. kasada 12 elma vardır. 1. ve 2. kasadaki elmaların toplamı 36 ise, 2. kasada kaç elma vardır?

A. 12 B. 24 C. 36

24.

Dünyanın şekli aşağıdakilerden hangisine benzer?

- A. küre  
B. silindir  
C. kare



25.

48 sayfalık bir defterin  $\frac{1}{2}$ 'i yazılıdır. Boş sayfa sayısı kaçtır?

A. 12 B. 24 C. 36